

இலங்கை தேசிய தேர்வுக் குழு / இலங்கை தேர்வுக் குழு
 இலங்கைப் பரீட்சைத் திணைக்களம் / இலங்கைப் பரீட்சைத் திணைக்களம்
 Department of Examinations, Sri Lanka / Department of Examinations, Sri Lanka
 61 T I, II

வினாத்தாள்	புள்ளிகள்
I	

අධ්‍යයන පොදු සහතික පත්‍ර (සාමාන්‍ය පෙළ) විභාගය, 2024(2025)
 கல்விப் பொதுத் தராதரப் பத்திர (சாதாரண தர)ப் பரீட்சை, 2024(2025)
 General Certificate of Education (Ord. Level) Examination, 2024(2025)

භූගෝල විද්‍යාව I, II
 புவிப்பியல் I, II
 Geography I, II

පැය තුනයි
 மூன்று மணித்தியாலம்
 Three hours

பரீட்சை 1	
பரீட்சை 2	
EMF	

අමතර කියවීමේ කාලය - මිනිත්තු 10 යි
 மேலதிக வாசிப்பு நேரம் - 10 நிமிடங்கள்
 Additional Reading Time - 10 minutes

வினாப்பத்திரத்தை வாசித்து, வினாக்களைத் தெரிவு செய்வதற்கும் விடை எழுதும்போது முன்னுரிமை வழங்கும் வினாக்களை ஒழுங்கமைத்துக் கொள்வதற்கும் மேலதிக வாசிப்பு நேரத்தைப் பயன்படுத்துக.

புவிப்பியல் I

கூட்டெண் :

அறிவுறுத்தல்கள் :

- * இவ்வினாத்தாள் 40 வினாக்களைக் கொண்டது.
- * ஒவ்வொரு வினாவுக்கும் வழங்கப்பட்டுள்ள அறிவுறுத்தல்களுக்கு அமைவாக எல்லா வினாக்களுக்கும் இவ்வினாத்தாளிலேயே விடை எழுதுக.
- 1 தொடக்கம் 5 வரையுள்ள வினாக்கள் ஒவ்வொன்றிலுமுள்ள வெற்றிடத்துக்குப் பொருத்தமான விடையை அடைப்புக்குறியினுள்ளே உள்ளவற்றிலிருந்து தெரிந்தெடுத்து புள்ளிக்கோட்டின் மீது எழுதுக.
- 1. என்பதற்கேற்ப வெப்பநிலையில் ஏற்படும் மாற்றத்தின் அடிப்படையில் வளிமண்டலம் முக்கியமாக நான்கு படைகளாகப் பிரிக்கப்படுகின்றது.
(உயரம் / அழுக்கம் / ஈரப்பதன்)
- 2. உயர் வெப்பநிலை மற்றும் அழுக்கத்தினால் பாதிக்கப்படும் பல்வேறு பாறைகளின் உண்மையான இயல்பில் ஏற்படும் மாற்றம் காரணமாக உருவாக்கப்படுகின்றது.
(தீப்பாறை / அடையல் பாறை / உருமாறிய பாறை)
- 3. இலங்கையில் சிலிக்கா மணல் கனியம் பெரும்பாலும் பகுதியில் பரம்பிக் காணப்படுகின்றது.
(மாறவில்ல / புல்மோட்டை / பலாங்கொட்ட)
- 4. களுத்துறை, கேகாலை மற்றும் மாவட்டங்களில் இறப்பர் என்பது பிரதான வர்த்தகப் பயிர்ச்செய்கையாக விளங்குகிறது.
(இரத்தினபுரி / குருநாகல் / பதுளை)
- 5. இலங்கையின் குடித்தொகையில் உயர்ந்தளவான சதவீதம் மக்களைச் சார்ந்ததாக உள்ளது.
(கிராம / நகர / பெருந்தோட்ட)
- 6 தொடக்கம் 10 வரையுள்ள கூற்றுக்கள் ஒவ்வொன்றையும் வாசித்து அவை சரியாயின் 'ச' ஐயும், பிழையாயின் 'பி' ஐயும் சுற்றி வட்டம் வரைக.
- 6. எரிமலை நடவடிக்கையின் விளைவாக 'ஹாவாய்' தீவுகள் உருவாக்கப்பட்டன. ச / பி
- 7. 'சகாரா', 'அராபியன்' மற்றும் 'தார்' பாலைவனங்கள் அயனக் காலநிலைப் பிரதேசத்துக்குள் அமைந்துள்ளன. ச / பி
- 8. மாத்தறை, காலி மற்றும் களுத்துறை மாவட்டங்களில் பரம்பிக் காணப்படும் தேயிலைப் பயிர்ச்செய்கை 'மத்திய நிலத்' தேயிலை என அறியப்படும். ச / பி
- 9. இலங்கையில் பாலுக்காக வளர்க்கப்படும் ஒருமை மாடுகளில் 2/3 பகுதி வரண்ட வலயப் பிரதேசங்களில் உள்ளன. ச / பி
- 10. இந்து சமுத்திரத்தின் வங்காள விரிகுடாவில் தோன்றும் சூறாவளிகள் 'ஹரிக் கேன்கள்' என அறியப்படும். ச / பி
- 11 தொடக்கம் 16 வரையுள்ள வினாக்களில் உள்ள வெற்றிடங்களைப் பொருத்தமான சொற்களைக் கொண்டு நிரப்புக.
- 11. மண்ணில் காணப்படும் நீர் என அறியப்படும்.

30. இலங்கையில் தரைநீர் வடிநிலங்கள் பெரிதும் பரம்பிக் காணப்படும் சோடி மாவட்டங்கள் எது?
 (1) மன்னார் மற்றும் முல்லைத்தீவு (2) அநுராதபுரம் மற்றும் குருநாகல்
 (3) புத்தளம் மற்றும் கிளிநொச்சி (4) திருகோணமலை மற்றும் வவுனியா (.....)
31. உலக கோதுமை உற்பத்தியில் முன்னணி வகிக்கும் இரண்டு நாடுகளைக் கொண்டிருக்கும் விடையைத் தெரிவு செய்க.
 (1) சீனா மற்றும் கனடா (2) இந்தியா மற்றும் ரஷ்யா
 (3) அவுஸ்திரேலியா மற்றும் கனடா (4) சீனா மற்றும் இந்தியா (.....)
32. மொந்தாணை வரண்ட வலயக்காடு காணப்படும் பகுதி பின்வருவனவற்றுள் எது?
 (1) கன்னெலிய (2) சமனலகந்த
 (3) சந்ததென்ன (4) பேதுறுதாலகாலை (.....)
33. கடல் மட்டத்திலிருந்து நகரங்களின் அமைவிடத்தின் உயரத்தினை ஏறுவரிசை ஒழுங்கின் படி எடுத்துக்காட்டும் விடையைத் தெரிவு செய்க.
 (1) திருகோணமலை, கண்டி, நுவரெலியா மற்றும் ஹற்றன்
 (2) திருகோணமலை, கண்டி, ஹற்றன் மற்றும் நுவரெலியா
 (3) கண்டி, ஹற்றன், நுவரெலியா மற்றும் நாவலப்பிட்டி
 (4) கண்டி, நுவரெலியா, ஹற்றன் மற்றும் கம்பளை (.....)
34. பின்வரும் கூற்றுகளைக் கவனத்திற் கொள்க.
 A - சூழலியல் மாசுபடுதலை இழிவளவாக்கல்
 B - அடிப்படைச் செலவுகளை இழிவளவாக்கல்
 C - குறைந்து செல்லும் வளமாக இருத்தல்
 D - உள்ளூர் தொழில்நுட்பத்தினைப் பயன்படுத்தும் சாத்தியம்
 மேலே A தொடக்கம் D வரையுள்ள கூற்றுகளில் இலங்கையில் காற்றுச் சக்தி மற்றும் சூரிய சக்திப் பிறப்பாக்கம் மற்றும் பயன்பாட்டுடன் தொடர்பான பொதுவான அனுகூலங்களைக் கொண்டிருக்கும் சரியான கூற்றுகளை மாத்திரம் கொண்டிருக்கும் விடையைத் தெரிவுசெய்க.
 (1) A மற்றும் B (2) A மற்றும் C (3) A மற்றும் D (4) C மற்றும் D (.....)
35. உலகின் குடித்தொகைப் பரம்பலின் படி அதிகூடிய குடித்தொகையைக் கொண்ட ஆற்றுப் பள்ளத்தாக்கு எது?
 (1) கொங்கோ (2) முறே - டார்லிங் (3) கங்கை (4) அமேசன் (.....)
36. புவிச்சரிதவியல் இடருக்கு ஓர் உதாரணம்,
 (1) கனாமி (2) சூறாவளிகள் (3) இடிமின்னல் (4) காட்டுத் தீ (.....)
37. இலங்கையில் அனர்த்தங்களின் நிகழ்வினை இழிவளவாக்குவதற்கு மேற்கொள்ளக்கூடிய அதிகளவு பயன்மிக்க நடவடிக்கை
 (1) பொதுசன ஊடகங்களினூடாக தொடர்ச்சியான விழிப்புணர்வை ஏற்படுத்தல்
 (2) அனர்த்தங்களை இழிவளவாக்கும் கருவிகளை அறிமுகம் செய்தல்
 (3) அனர்த்தங்களைத் தடுப்பதற்கான நவீன கட்டுமான முறைகளை அறிமுகம் செய்தல்
 (4) பாடசாலைக் கல்வியினூடாக அனர்த்த பாதுகாப்பு நிகழ்ச்சித்திட்டங்களைத் தொடர்ச்சியாக அமுலாக்கல் (.....)
- A, B, C மற்றும் D ஆகியவற்றில் தரப்பட்டுள்ள ஒன்றுடனொன்று தொடர்புடைய தலைப்புக்களின் சோடிகளை நன்கு அவதானித்து, 38 தொடக்கம் 40 வரையுள்ள வினாக்களுக்கு விடை தருக.
 A - 1. காடுகளைப் பேணிப் பாதுகாத்தல்
 B - 1. கைத்தொழிலாக்கம்
 2. நீரேந்து பகுதிகள்
 2. சூழலியல் சமநிலை
 C - 1. அபிவிருத்திச் செயன்முறை
 D - 1. முதல் பற்றாக்குறை
 2. மானிட வளம்
 2. பல்தேசியக் கம்பனிகள்
38. முதலாவதில் ஏற்படும் வெற்றி இரண்டாவதன் இருப்புக்குச் சாதகமாக இருக்கும் என்பதனைக் குறித்துக் காட்டும் தலைப்புச் சோடிகளின் இணைப்பு எது?
 (1) A (2) B (3) C (4) D (.....)
39. இரண்டாவதன் இருப்புக்கு முதலாவது ஒரு தடையாக இருக்கும் என்பதனைக் குறித்துக்காட்டும் தலைப்புச் சோடிகளின் இணைப்பு எது?
 (1) A (2) B (3) C (4) D (.....)
40. இரண்டாவதில் ஏற்படும் முன்னேற்றம் முதலாவதின் வெற்றியில் செல்வாக்கைக் கொண்டிருக்கும் என்பதை எடுத்துக்காட்டும் தலைப்புச் சோடிகளின் இணைப்பு எது?
 (1) A (2) B (3) C (4) D (.....)

[සියලු ම හිමිකම් ඇවිරිණි / முழுப் பதிப்புரிமையுடையது / All Rights Reserved]

இலங்கைப் பரீட்சைத் திணைக்களம்
 Department of Examinations, Sri Lanka
 இலங்கைப் பரீட்சைத் திணைக்களம்
 Department of Examinations, Sri Lanka
 இலங்கைப் பரීட்சைத் திணைக்களம்
 Department of Examinations, Sri Lanka
 இலங்கைப் பரීட்சைத் திணைக்களம்
 Department of Examinations, Sri Lanka

61 T I, II

අධ්‍යයන පොදු සහතික පත්‍ර (සාමාන්‍ය පෙළ) විභාගය, 2024(2025)
 கல்விப் பொதுத் தராதரப் பத்திர (சாதாரண தர)ப் பரீட்சை, 2024(2025)
 General Certificate of Education (Ord. Level) Examination, 2024(2025)

ஜோசீ வீடியோ	I, II
புவியியல்	I, II
Geography	I, II

புவியியல் II

- * இவ்வினாத்தாள் I, II என்னும் இரண்டு பகுதிகளைக் கொண்டுள்ளது.
- * பகுதி I இலுள்ள வினா 01 கட்டாயமானது. அதில் (அ), (ஆ), (இ) ஆகிய மூன்று பிரிவுகளுக்கும் விடை எழுதுதல் வேண்டும்.
- * பகுதி II இலிருந்து நான்கு வினாக்களுக்கு விடை எழுதுதல் வேண்டும்.
- * எல்லாமாக ஐந்து வினாக்களுக்கு விடை எழுதுதல் வேண்டும்.

பகுதி I

1. (அ) உமக்குத் தரப்பட்டுள்ள இலங்கையின் 1:50 000 அளவுத்திட்டத்தில் அமைந்த இடவிளக்கப் படத்தின் பகுதியை நன்கு அவதானித்து, அதன் அடிப்படையில் பின்வரும் வினாக்களுக்கு விடை எழுதுக. விடைகளை எழுதுவதற்கு உமக்கு வழங்கப்பட்டுள்ள தாளினைப் (பக்க இல. 8) பயன்படுத்துக.
- (i) தொடக்கம் (iv) வரையுள்ள வினாக்கள் ஒவ்வொன்றுக்கும் பொருத்தமான விடையை அடைப்புக்குறிக்குள் தரப்பட்டுள்ளவற்றிலிருந்து தெரிவுசெய்து எழுதுக.
 - (i) A எழுத்தினால் எடுத்துக்காட்டப்படும் அம்சம் யாது?
(வரலாற்று முக்கியத்துவம்மிக்க இடம் / திரிகோண கணித நிலையம் / வாடி வீடு) (01 புள்ளி)
 - (ii) B எழுத்தினால் எடுத்துக் காட்டப்படுவது யாது?
(நீர்ப்பாசனக் கால்வாய் / நடைபாதை / பாதுகாக்கப்பட்ட பகுதி) (01 புள்ளி)
 - (iii) C எழுத்தினால் எடுத்துக்காட்டப்படும் அம்சம் யாது?
(வெளியரும்பு பாறை / காடு / புதர் நிலம்) (01 புள்ளி)
 - (iv) D எழுத்தினால் எடுத்துக்காட்டப்படும் நிர்வாக எல்லை யாது?
(மாகாணம் / மாவட்டம் / பிரதேச செயலகம்) (01 புள்ளி)
 - (v) E எழுத்தினால் எடுத்துக்காட்டப்படும் நாற்பக்கலில் நியமக் குறியீடுகள் மூலம் எடுத்துக்காட்டப்படும் பொதுச்சேவைகளை வழங்கும் இரண்டு நிறுவகங்களைப் பெயரிடுக. (02 புள்ளிகள்)
 - (vi) X அமைவிடத்திலிருந்து A-26 நெடுஞ்சாலை வழியே பிரயாணம் செய்து 73 ஆவது கிலோ மீற்றர் நிலையத்தினைக் கடந்து வடக்கு நோக்கிய பாதை வழியே அமைவிடம் Y வரை பிரயாணம் செய்கின்றீர் எனக் கருதிக் கொள்க.
 - (அ) நீர் பிரயாணம் செய்த மொத்தத் தூரம் ஏறக்குறைய எத்தனை கிலோ மீற்றர்? (01 புள்ளி)
 - (ஆ) நீர் சென்றடைந்த அமைவிடம் Y இல் இருந்து பார்க்கும் பொழுது, நீர் உமது பிரயாணத்தை ஆரம்பித்த X அமைவிடம் எந்தத் திசையில் அமைந்துள்ளது? (01 புள்ளி)
 - படப் பகுதி பற்றிய இரண்டு கூற்றுக்கள் வினாக்கள் (vii) மற்றும் (viii) ஆகியவற்றில் தரப்பட்டுள்ளது. அவ் ஒவ்வொரு கூற்றினையும் வாசித்து அவை சரியாக இருந்தால் 'ச' எனவும் பிழையாக இருந்தால் 'பி' எனவும் விடைத்தாளில் தரப்பட்டுள்ள வினா இலக்கத்திற்கு முன்னால் எழுதவும்.
 - (vii) படப்பகுதியில் காணப்படும் நெற் பயிர்ச்செய்கை நீர்ப்பாசனத்தைப் பயன்படுத்தியே மேற்கொள்ளப்படுகின்றது. (01 புள்ளி)
 - (viii) படப்பகுதி முழுவதிலும் ஆரை வடிகால் பாங்கினையே காணமுடிகின்றது. (01 புள்ளி)

(ஆ) உமக்குத் தரப்பட்டுள்ள உலகப் படத்தினைக் கவனமாக அவதானித்து, கீழே தரப்பட்டுள்ள வினாக்களுக்கு விடை தருக. விடை எழுதுவதற்காக உலகப் படத்தின் அருகே தரப்பட்டுள்ள கூட்டிணைப் (பக்க இல. 9) பயன்படுத்துக.

● (i) தொடக்கம் (V) வரையுள்ள ஒவ்வொரு வினாவுக்கும் எதிரே மூன்று ஆங்கில எழுத்துக்கள் தரப்பட்டுள்ளன. சரியான விடையைக் குறிக்கும் எழுத்தை உலகப் படத்திலிருந்து தெரிவுசெய்து படத்தின் அருகிலுள்ள உரிய கூட்டிணை எழுதுக.

(i) அப்பலாச்சியன் மலைத்தொடர் - (A, B, C)

(ii) ரிற்றிக்காகா ஏரி - (D, E, F)

(iii) நைகர் ஆறு - (G, H, I)

(iv) உக்கிரேயன் - (J, K, L)

(v) பாங்கொக் நகரம் - (M, P, S)

(05 புள்ளிகள்)

(இ) உமக்குத் தரப்பட்டுள்ள இலங்கைப் படத்தினைக் கவனமாக அவதானித்து, கீழே தரப்பட்டுள்ள வினாக்களுக்கு விடை தருக. விடை எழுதுவதற்காக இலங்கைப் படத்தின் அருகே தரப்பட்டுள்ள கூட்டிணைப் (பக்க இல. 9) பயன்படுத்துக.

● (i) தொடக்கம் (V) வரையுள்ள ஒவ்வொரு வினாவுக்கும் எதிரே மூன்று ஆங்கில எழுத்துக்கள் தரப்பட்டுள்ளன. சரியான விடையைக் குறிக்கும் எழுத்தைப் படத்திலிருந்து தெரிவுசெய்து அருகிலுள்ள உரிய கூட்டிணை எழுதுக.

(i) உமா ஓயா - (A, B, C)

(ii) 'ரிட்டிகல்' தடை விதிக்கப்பட்ட இயற்கை ஒதுக்கிடம் - (D, E, F)

(iii) 'புல்மோட்டை' இல்மனைட் படிவு - (G, H, I)

(iv) கற்பிட்டி நகரம் - (J, K, L)

(v) 'மிரிச' மீன்பிடித் துறைமுகம் - (R, S, T)

(05 புள்ளிகள்)

பகுதி II

2. (i) புவியின் வளிமண்டலம் கொண்டிருக்கும் வாயு வகைகளை முறையே பெயரிடுக.
 - (a) மனிதன் சுவாசிப்பதற்கு அத்தியாவசியமான வாயு
 - (b) ஒளித்தொகுப்புக்கு அத்தியாவசியமான வாயு

(02 புள்ளிகள்)
- (ii) (a) நழுவு வீதம்
 (b) ஓசோன்
 (c) குறைந்த வெப்பநிலை
 மேலே குறிப்பிட்ட வளிமண்டல அம்சங்களைக் கொண்ட மூன்று வளிமண்டலப் படைகளை முறையே பெயரிடுக.

(03 புள்ளிகள்)
- (iii) (a) வளிமண்டலத்தின் மாசடைதல் காரணமாக உயிர்க்கோளத்தின் ஆரோக்கியமான இருப்பின் மீது ஏற்படும் பாதகமான மூன்று தாக்கங்களைக் குறிப்பிடுக.
 (b) உயிர்க்கோளத்தின் ஆரோக்கியமான இருப்புக்கு எவ்வாறு உம்மால் பங்களிக்க முடியும் என்பதை விளக்குக.

(05 புள்ளிகள்)
3. (i) தேயிலைப் பயிர்ச் செய்கையை வெற்றிகரமாக மேற்கொள்வதற்கு அத்தியாவசியமான இரண்டு பெளதிகக் காரணிகளைப் பெயரிடுக.

(02 புள்ளிகள்)
- (ii) இலங்கையில் தேயிலைக் கைத்தொழிலுடன் தொடர்பான மூன்று பிரச்சினைகளைக் குறிப்பிடுக.

(03 புள்ளிகள்)
- (iii) இலங்கையில் தேயிலைக் கைத்தொழிலை விருத்தி செய்வதற்கு அரசாங்கத்தினால் மேற்கொள்ளப்பட்டு வரும் மூன்று படிமுறைகளைக் குறிப்பிட்டு, அவற்றுள் ஒன்றினை விளக்குக.

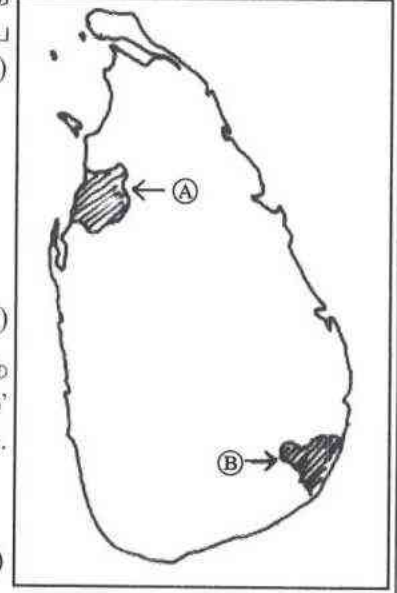
(05 புள்ளிகள்)
4. (i) இலத்திரனியல் கைத்தொழிலில் முன்னணி இடத்தினைக் கொண்டிருக்கும் ஆசியப் பிராந்தியத்தைச் சேர்ந்த இரண்டு நாடுகளைப் பெயரிடுக.

(02 புள்ளிகள்)
- (ii) இலத்திரனியல் கைத்தொழிலின் விசேட அம்சங்கள் மூன்றினைக் குறிப்பிடுக.

(03 புள்ளிகள்)
- (iii) (a) இலத்திரனியல் கருவிகளின் பயன்பாட்டின் காரணமாக சமூகத்தின் மீது ஏற்படும்.
 - (I) இரண்டு சாதகமான தாக்கங்கள் மற்றும்
 - (II) பாதகமான தாக்கம் ஒன்றினையும் குறிப்பிடுக.
- (b) உம்மால் குறிப்பிடப்பட்ட சாதகமான தாக்கங்களுள் ஒன்று எவ்வாறு இலங்கையின் விருத்திக்குப் பங்களிக்கின்றதென்பதை விளக்குக.

(05 புள்ளிகள்)

5. (i) அருகிலுள்ள படத்தில் A மற்றும் B இனால் குறித்துக் காட்டப்பட்டுள்ள இரண்டு தேசியப் பூங்காக்களை முறையே பெயரிடுக. (02 புள்ளிகள்)



- (ii) கீழே குறிப்பிடப்பட்ட A, B மற்றும் C பிரிவுகளைச் சேர்ந்த பிரதான காட்டு வகைகளை முறையே பெயரிடுக.
 A - மகோகனி, கருங்காலி - புலி, சிம்பன்சி
 B - பூகலிப்டஸ், செஸ் நட - ஓநாய், மான்
 C - பொல்லார், பைன் - துருவமான், பண்டா கரடி (03 புள்ளிகள்)

- (iii) கீழே தரப்பட்டுள்ள தலைப்பின் கீழ் இலங்கையில் பரம்பிக் காணப்படும் இயற்கைத் தாவர வகையாகக் கருதப்படும் 'கண்டல் தாவரம்' (Mangroves) பற்றிய விவரணம் ஒன்றினைச் சுருக்கமாகத் தருக.
 (a) பரம்பிக் காணப்படும் பகுதி
 (b) தாவரங்களின் விசேடமான அம்சங்கள் இரண்டு
 (c) பொருளாதாரப் பெறுமானம் (05 புள்ளிகள்)

6. (i) குறிப்பிட்ட பகுதியொன்றின் சனத்தொகை அடர்த்தியை வரையறுப்பதற்குப் பயன்படுத்தப்படும் இரண்டு காரணிகளைப் பெயரிடுக. (02 புள்ளிகள்)

- (ii) உலகில் மிகக் கூடிய சனத்தொகை கொண்ட பத்து நாடுகளில் இந்தியா மற்றும் சீனா தவிர்ந்த மூன்று ஆசிய நாடுகளைப் பெயரிடுக. (03 புள்ளிகள்)

- (iii) இலங்கையில் சனத்தொகைப் பரம்பலில் காணப்படும் சமனற்ற தன்மைகளை இழிவளவாக்குவதற்கு மேற்கொள்ளக்கூடிய மூன்று நடவடிக்கைகளைக் குறிப்பிட்டு அவற்றுள் ஒன்றினை விவரிக்கുക. (05 புள்ளிகள்)

7. (i) நிலைபேண் அபிவிருத்தியில் மையக் குவிவாகக் கவனம் செலுத்தப்படும் இரண்டு பிரதான துறைகளைப் பெயரிடுக. (02 புள்ளிகள்)

- (ii) இலங்கையில் மனித வளங்களை விருத்தி செய்வதற்கு அண்மைக் காலங்களில் மேற்கொள்ளப்பட்டு வரும் மூன்று நடவடிக்கைகளைக் குறிப்பிடுக. (03 புள்ளிகள்)

- (iii) இலங்கையின் அபிவிருத்திச் செயன்முறையில் உட்கட்டுமான வசதிகளின் மேம்பாட்டிலிருந்து பெற்றுக்கொள்ளப்பட்ட நன்மைகள் மூன்றினைக் குறிப்பிட்டு அவற்றுள் ஒன்றினை விளக்குக. (05 புள்ளிகள்)

8. (i) இலங்கையின் ஈரவலயத்தில் மீள்நிகழ்வு வெள்ள இடர்களினால் இலகுவில் பாதிக்கப்படக்கூடிய இரண்டு ஆற்றுப் பள்ளத்தாக்குகளைப் பெயரிடுக. (02 புள்ளிகள்)

- (ii) அண்மையில் இலங்கையின் சில பிரதான நகரங்களில் இடம்பெற்ற மீள் நிகழ்வு வெள்ளப்பெருக்கில் செல்வாக்குச் செலுத்திய,
 (a) இரண்டு மானிட நடவடிக்கைகள் மற்றும்
 (b) இயற்கையான காரணம் ஒன்றினையும் முறையே எழுதுக. (03 புள்ளிகள்)

- (iii) வெள்ளப்பெருக்கின் காரணமாக நகரப் பகுதிகளில் இடம்பெறும் அனர்த்தங்களைத் தணிப்பதற்கு மேற்கொள்ளக்கூடிய நடவடிக்கைகள் மூன்றினைக் குறிப்பிட்டு, அந் நடவடிக்கைகளுள் ஒன்றினைப் பற்றிய விவரணம் ஒன்றினைச் சுருக்கமாகத் தருக. (05 புள்ளிகள்)

ශ්‍රී ලංකා විභාග දෙපාර්තමේන්තුව/இலங்கைப் பரீட்சைத் திணைக்களம்/Department of Examinations, Sri Lanka

අධ්‍යයන පොදු සහතික පත්‍ර (සාමාන්‍ය පෙළ) විභාගය, 2024 (2025)

கல்விப் பொதுத் தராதரப் பத்திர (சாதாரண தர)ப் பரீட்சை, 2024 (2025)

General Certificate of Education (Ord. Level) Examination, 2024 (2025)

විභාග අංකය

சுட்டெண்

Index Number

(61) භූගෝල විද්‍යාව II
 புவியியல் II
 Geography II

I. (අ) / (அ) / (a)

(i)

(ii)

(iii)

(iv)

(v)

(vi) (a)

(b)

(vii)

(viii)

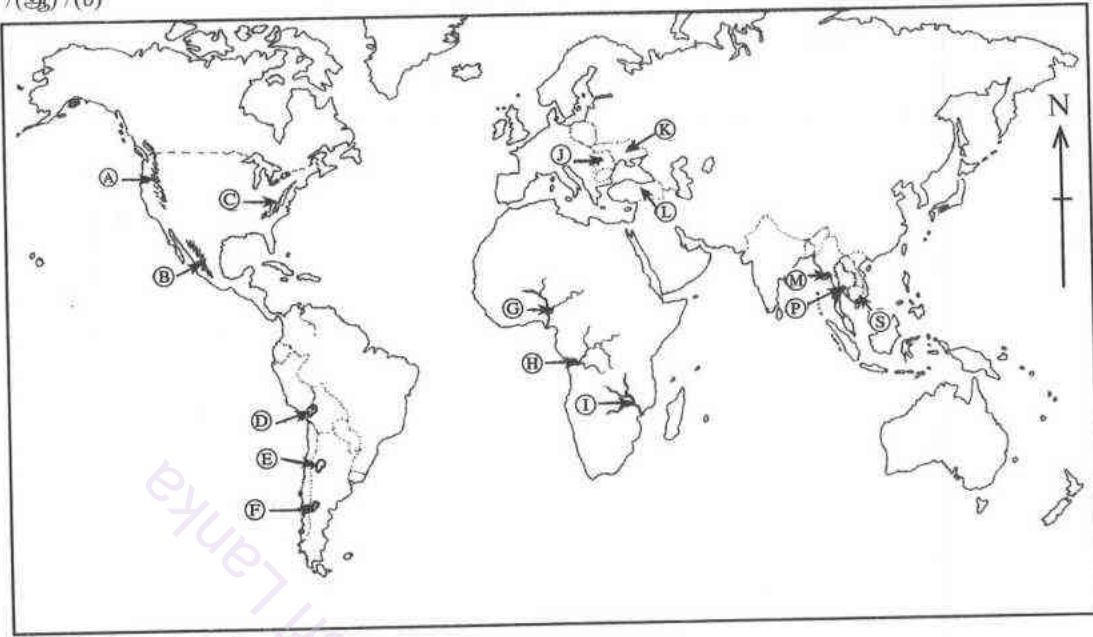
පරීක්ෂකවරයාගේ
 ප්‍රයෝජනය පිණිසයි.
 பரீட்சகரின்
 உபயோகத்திற்கு மட்டும்
 For Examiner's
 Use Only

10

27303

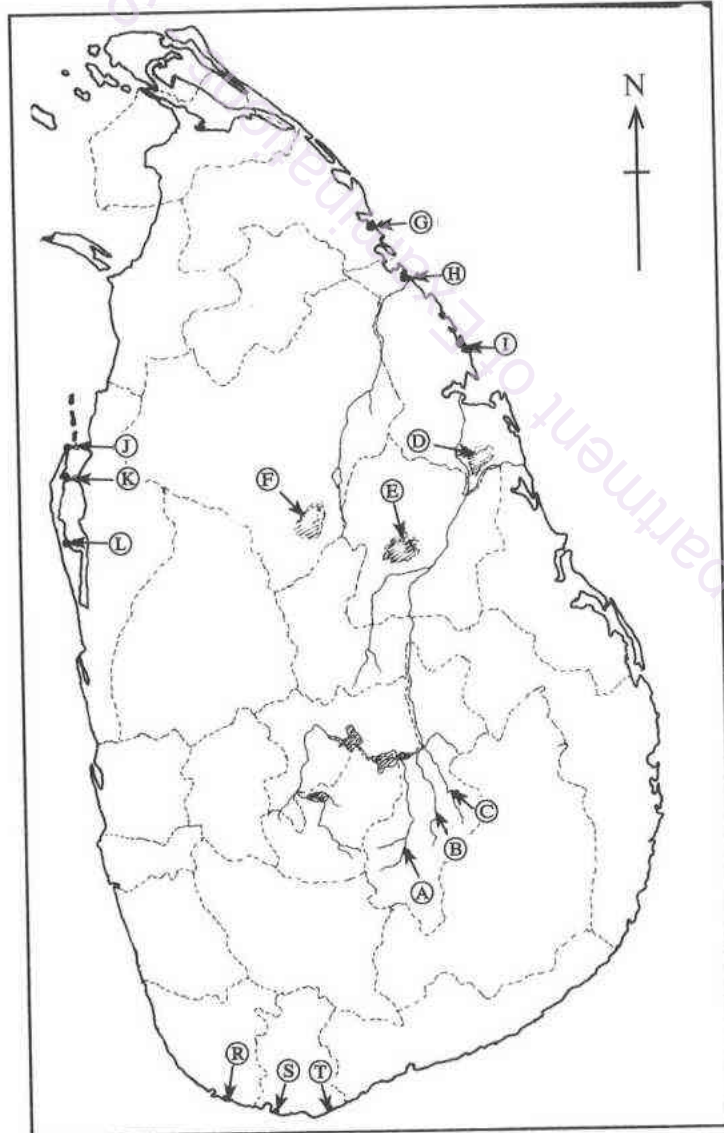
Department of Examinations Sri Lanka

(ආ) / (ஆ) / (b)



- (i)
- (ii)
- (iii)
- (iv)
- (v)
- 5

(ඉ) / (இ) / (c)



- (i)
- (ii)
- (iii)
- (iv)
- (v)
- 5

පරීක්ෂකවරයාගේ ප්‍රයෝජනය පිණිසයි. පරීட்சකයින් උපයෝගයකට නොමැතිව. For Examiner's Use Only.

1. (ආ) (அ) (a) $\frac{10}{10}$

(ආ) (ஆ) (b) $\frac{5}{5}$

(ඉ) (இ) (c) $\frac{5}{5} = \frac{20}{20}$

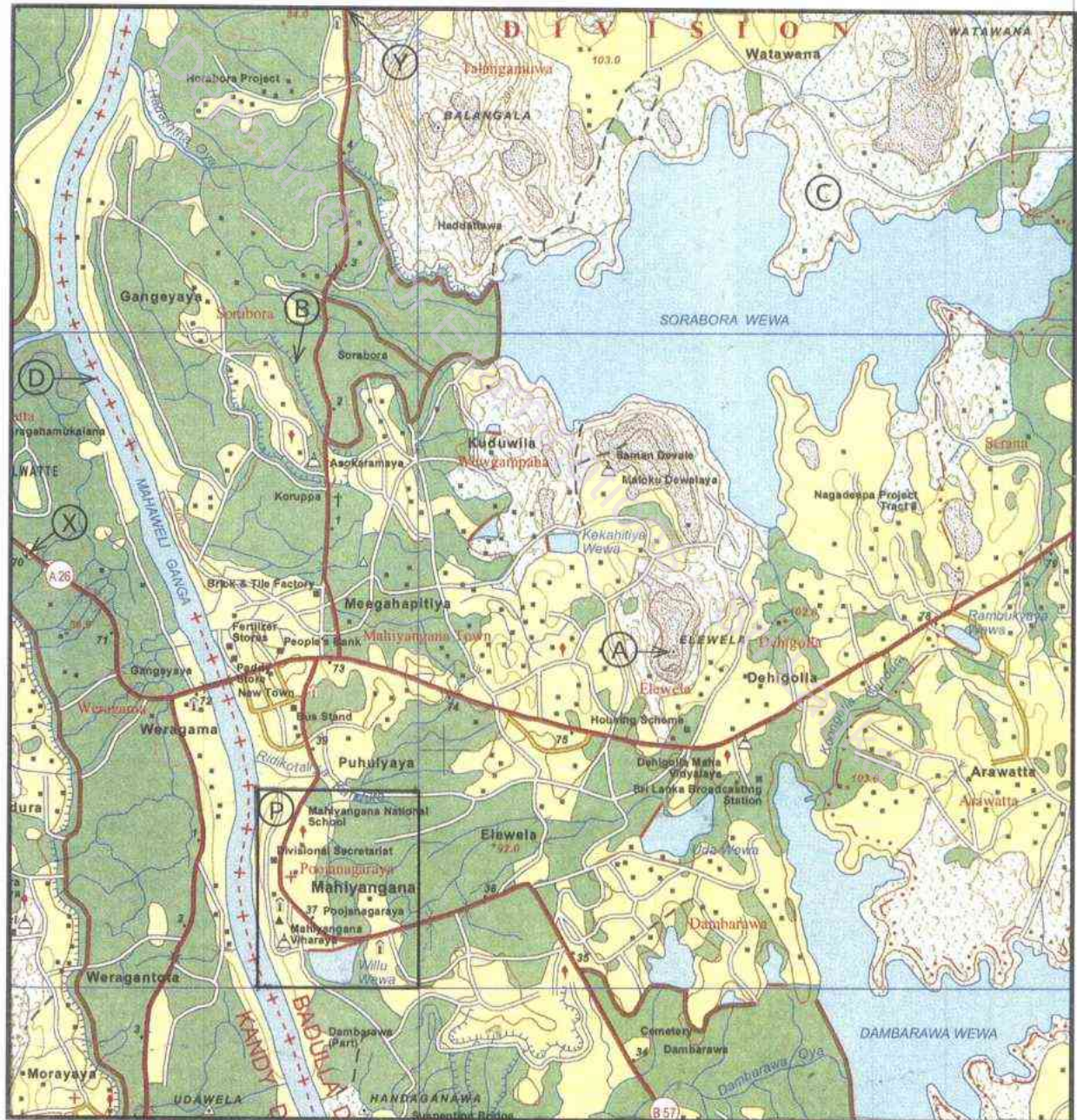
27303

ශ්‍රී ලංකා විභාග දෙපාර්තමේන්තුව ශ්‍රී ලංකා විභාග දෙපාර්තමේන්තුව ශ්‍රී ලංකා විභාග දෙපාර්තමේන්තුව ශ්‍රී ලංකා විභාග දෙපාර්තමේන්තුව ශ්‍රී ලංකා විභාග දෙපාර්තමේන්තුව
 இலங்கைப் பரீட்சைத் திணைக்களம் இலங்கைப் பரීட்சைத் திணைக்களம் இலங்கைப் பரීட்சைத் திணைக்களம் இலங்கைப் பரීட்சைத் திணைக்களம் இலங்கைப் பரීட்சைத் திணைக்களம்
 Department of Examinations, Sri Lanka Department of Examinations, Sri Lanka Department of Examinations, Sri Lanka Department of Examinations, Sri Lanka Department of Examinations, Sri Lanka

61 II

අධ්‍යයන පොදු සහතික පත්‍ර (සාමාන්‍ය පෙළ) විභාගය, 2024(2025)
 கல்விப் பொதுத் தராதரப் பத்திர (சாதாரண தர)ப் பரீட்சை, 2024(2025)
 General Certificate of Education (Ord. Level) Examination, 2024(2025)

භූගෝල විද්‍යාව II / புவியியல் II / Geography II



SCALE : 1 : 50,000

Department of Examinations Sri Lanka

